


Nom _____




Croco adore manger des mouches. Il ouvre toujours la bouche vers le côté où il y a le plus de mouches. Dessine combien de mouches pourrait contenir chacun des ensembles suivants en respectant les consignes.



est plus petit que



est plus grand que



est égal à



Écris $<$, $>$ ou $=$ dans chacun des cercles ci-dessous.

a) 16 ○ 12

d) 2 ○ 9

g) 25 ○ 25

b) 28 ○ 21

e) 30 ○ 30

h) 6 ○ 33

c) 24 ○ 42

f) 0 ○ 10

i) 48 ○ 35

Pour les experts: $5 + 3$ ○ $9 - 2$