





Nom _____


1. Dans , combien y a-t-il de...

a)  ? _____

b)  ? _____

c)  ? _____


d)  ? _____


e)  ? _____

2. Dans , combien y a-t-il de...

a)  ? _____

b)  ? _____

c)  ? _____

d)  ? _____

e)  ? _____

f)  ? _____

3. Vrai ou faux? Encercele la bonne réponse.

a)  +  +  +  +  = 40 ¢ Vrai Faux

b)  +  +  +  +  = 32 ¢ Vrai Faux